



Rua Vereador Dr. José Roberto de Azevedo, s/nº - Jardim das Palmeiras
CEP: 83350-000, Morretes- PR,
Fone: (41) 3462-1266 Ramal: 4006
Email: edsmch1958@yahoo.com.br

Ofício nº 21/2024

→ Senhora
Adriana Assumpção
Secretária Municipal de Educação e Esportes

Morretes, 11 de abril de 2024.

Vimos através deste, encaminhada a Vossa Senhoria o "**Resultado da Aplicação das Avaliações Diagnósticas - 2024**" realizada com os alunos do nosso Estabelecimento de Ensino.

Sem mais no momento, subscrevemo-nos.

Norma Sueli Fonseca de Araújo

Diretora

Portaria nº 2075 05/01/2023



Rua Vereador Dr. José Roberto de Azevedo, s/nº - Jardim das Palmeiras
 CEP: 83350-000, Morretes- PR,
 Fone: (41) 3462-1266 Ramal: 4006
 Email: edsmch1958@yahoo.com.br

5º ANOS

DISCIPLINA: Matemática

5º ANO A	5º ANO B	TOTAL DE ALUNOS	ALUNOS AVALIADOS
22	20	42	41

QUESTÕES	CONTEÚDO DE CADA QUESTÃO	HABILIDADE	Nº DE ACERTOS	PORCENTAGEM DE ACERTOS
Questão 01	Decomposição dos números até unidade de milhar.	EF03MA01	25	60,98%
Questão 02	Operação de adição com reagrupamento utilizando centena, dezena e unidade.	EF04MA03	37	90,24%
Questão 03	Operação de subtração com desagrupamento utilizando centena, dezena e unidade.	EF04MA03	19	46,34%
Questão 04	Operação de multiplicação com um fator.	EF04MA06	35	85,37%
Questão 05	Operação de divisão com um divisor.	EF04MA07	22	53,66%
Questão 06	Representação de valores (sistema monetário).	EF04MA10	28	68,29%
Questão 07	Interpretação de gráfico.	EF03MA26	39	95,12%
Questão 08	Resolução de situação problema envolvendo centena.	EF02MA01 EF03MA06	10	24,39%
Questão 09	Medidas de tempo (horas e minutos).	EF04MA22	27	65,85%
Questão 10	Leitura de números até dezena de milhar utilizando sinais de < e >.	EF04MA01	23	56,10%



Rua Vereador Dr. José Roberto de Azevedo, s/nº - Jardim das Palmeiras
 CEP: 83350-000, Morretes- PR,
 Fone: (41) 3462-1266 Ramal: 4006
 Email: edsmch1958@yahoo.com.br

DISCIPLINA: PORTUGUÊS

5º ANO A	5º ANO B	TOTAL DE ALUNOS	ALUNOS AVALIADOS
22	20	42	42

QUESTÕES	CONTEÚDO DE CADA QUESTÃO	HABILIDADE	Nº DE ACERTOS	PORCENTAGEM DE ACERTOS
Questão 01	Leitura e compreensão textual - O cravo e a Rosa	EF35LP01	36	85,71%
Questão 02	Organização de palavras em ordem alfabética.	EF04LP03	37	88,10%
Questão 03	Acentuação (acento circunflexo)	EF05LP03	15	35,71%
Questão 04	Pontuação ao final de frases.	EF04LP05	24	57,14%
Questão 05	Elaboração de frases.	EF02LP01	28	66,67%
Questão 06	Separação de sílabas de uma palavra.	EF02LP08	34	80,95%
Questão 07	Encontro vocálico nas palavras	EF04LP02	17	40,48%
Questão 08	Encontro Consonantal nas palavras	EF03LP02	17	40,48%
Questão 09	Identificação de um texto (gênero textual)	EF12LP09	42	100%
Questão 10	Análise textual: acentuação das palavras.	EF02LP07	24	57,14%



Rua Vereador Dr. José Roberto de Azevedo, s/nº - Jardim das Palmeiras
 CEP: 83350-000, Morretes- PR,
 Fone: (41) 3462-1266 Ramal: 4006
 Email: edsmch1958@yahoo.com.br

4º ANOS

DISCIPLINA: Português

4º ANO A	4º ANO B	4º ANO C	TOTAL DE ALUNOS	ALUNOS AVALIADOS
22	18	16	56	52

QUESTÕES	CONTEPUDO DE CADA QUESTÃO	HABILIDADE	Nº DE ACERTOS	PORCENTAGEM DE ACERTOS
Questão 01	Interpretação textual (título do texto).	EF04LP05	50	96,15%
Questão 02	Interpretação textual (personagens principais).	EF04LP05	49	94,23%
Questão 03	Interpretação textual	EF04LP05	45	86,54%
Questão 04	Interpretação textual.	EF04LP05	43	82,69%
Questão 05	Interpretação textual.	EF04LP05	44	82,62%
Questão 06	Leitura e compreensão de texto com signos verbais e não-verbais (tirinha).	EF15LP14	48	92,31%
Questão 07	Leitura e compreensão de texto com signos verbais e não-verbais (tirinha).	EF15LP14	49	94,23%
Questão 08	Leitura e compreensão de texto com signos verbais e não-verbais (tirinha).	EF15LP14	48	92,31%



Rua Vereador Dr. José Roberto de Azevedo, s/nº - Jardim das Palmeiras
 CEP: 83350-000, Morretes- PR,
 Fone: (41) 3462-1266 Ramal: 4006
 Email: edsmch1958@yahoo.com.br

DISCIPLINA: Matemática

4º ANO A	4º ANO B	4º ANO C	TOTAL DE ALUNOS	ALUNOS AVALIADOS
22	18	16	56	51

QUESTÕES	CONTEÚDO DE CADA QUESTÃO	HABILIDADE	Nº DE ACERTOS	PORCENTAGEM DE ACERTOS
Questão 01	Compreensão e escrita de números naturais até unidade de milhar.	EF03MA01	49	96,08%
Questão 02	Escrita por extenso de números até unidade de milhar.	EF03MA01	45	88,24%
Questão 03	Escrita de números por extenso com dezena e unidade.	EF03MA01	47	92,16%
Questão 04	Sequência numérica até 99.	EF03MA01	50	98,04%
Questão 05	Sequência numérica até 999.	EF03MA01	49	96,08%
Questão 06	Operação de adição.	EF02MA05	48	94,12%
Questão 07	Operação de subtração com desagrupamento.	EF02MA05	28	54,90%
Questão 08	Operação de multiplicação com um fator.	EF03MA07	44	86,27%
Questão 09	Operação de divisão com um divisor.	EF03MA08	21	41,18%
Questão 10	Resolução de situação problema de adição com agrupamento.	EF03MA06	37	72,55%



Rua Vereador Dr. José Roberto de Azevedo, s/nº - Jardim das Palmeiras
 CEP: 83350-000, Morretes- PR,
 Fone: (41) 3462-1266 Ramal: 4006
 Email: edsmch1958@yahoo.com.br

3º ANOS

DISCIPLINA: Português

3º ANO A	3º ANO B	3º ANO C	TOTAL DE ALUNOS	ALUNOS AVALIADOS
23	15	14	52	50

QUESTÕES	CONTEÚDOS DE CADA QUESTÃO	HABILIDADE	Nº DE ACERTOS	PORCENTAGEM DE ACERTOS
Questão 01	Ordem alfabética.	EF01LP10	46	92,00%
Questão 02	Distinguir letras de outros sinais.	EF01LP04	49	98,00%
Questão 03	Leitura de palavra/ identificação da palavra através da imagem.	EF01LP02 EF01LP08 EF01LP05	49	98,00%
Questão 04	Categorização gráfica.	EEF01LP11	45	90,00%
Questão 05	Identificação da quantidade de sílabas na palavra.	EF02LP08	44	88,00%
Questão 06	Identificação de rima de palavras.	EF12LP19	44	88,00%
Questão 07	Leitura de parlenda/ observar a quantidade de palavras na parlenda.	EF01LP16 EF01LP12	42	84,00%
Questão 08	Leitura de imagem.	EF15LP14	40	80,00%
Questão 09	Compreensão em leitura.	EF12LP04	44	88,00%
Questão 10	Leitura de imagens em narrativas visuais.	EF15LP14	39	78,00%



Rua Vereador Dr. José Roberto de Azevedo, s/nº - Jardim das Palmeiras
 CEP: 83350-000, Morretes- PR,
 Fone: (41) 3462-1266 Ramal: 4006
 Email: edsmch1958@yahoo.com.br

DISCIPLINA: Matemática

3º ANO A	3º ANO B	3º ANO C	TOTAL DE ALUNOS	ALUNOS AVALIADOS
23	15	14	52	51

QUESTÕES	CONTEÚDO DE CADA QUESTÃO	HABILIDADE	Nº DE ACERTOS	PORCENTAGEM DE ACERTOS
Questão 01	Representação números e quantidades.	EF01MA04	34	66,67%
Questão 02	Relação entre as ordens de dezena e unidade.	EF01MA02	26	50,98%
Questão 03	Ordem dos números para indicar maior e menor. (LETRA B)	EF02MA01	41	80,39%
Questão 04	Relação entre as ordens de dezena e unidade.	EF01MA02	30	58,82%
Questão 05	Identificação de objetos utilizados em pares.	EF02MA01	30	58,82%
Questão 06	Ordem Crescente.	EF02MA09	34	66,67%
Questão 07	Interpretação de tabela.	EF02MA23	28	54,90%
Questão 08	Interpretação de tabela.	EF02MA23	39	76,47%
Questão 09	Interpretação de tabela e operação de adição sem reagrupamento.	EF02MA23 EF	33	64,71%
Questão 10	Interpretação de gráfico. (LETRA C)	EF02MA23	42	82,35%



Rua Vereador Dr. José Roberto de Azevedo, s/nº - Jardim das Palmeiras
 CEP: 83350-000, Morretes- PR,
 Fone: (41) 3462-1266 Ramal: 4006
 Email: edsmch1958@yahoo.com.br

2º ANOS

DISCIPLINA: Português

2º ANO A	2º ANO B	2º ANO C	TOTAL DE ALUNOS	ALUNOS AVALIADOS
27	27	19	73	69

QUESTÕES	CONTEÚDO DE CADA QUESTÃO	HABILIDADE	Nº DE ACERTOS	PORCENTAGEM DE ACERTOS
Questão 01	Escrita do nome.	EI03EF09	65	94,20%
Questão 02	Ordem alfabética.	EF01LP10	64	92,75%
Questão 03	Identificar a palavra que nomeia a figura.	EF02LP04	64	92,75%
Questão 04	Identificar a palavra que nomeia a figura.	EF02LP04	63	91,30%
Questão 05	Identificar a palavra que nomeia a figura.	EF02LP04	62	89,86%
Questão 06	Identificar a palavra que nomeia a figura.	EF02LP04	63	91,30%
Questão 07	Identificar a palavra que nomeia a figura.	EF02LP04	63	91,30%
Questão 08	Identificar a palavra que nomeia a figura.	EF02LP04	65	94,20%



Rua Vereador Dr. José Roberto de Azevedo, s/nº - Jardim das Palmeiras
 CEP: 83350-000, Morretes- PR,
 Fone: (41) 3462-1266 Ramal: 4006
 Email:edsrch1958@yahoo.com.br

DISCIPLINA: Matemática

2º ANO A	2º ANO B	2º ANO C	TOTAL DE ALUNOS	ALUNOS AVALIADOS
27	27	19	73	66

QUESTÕES	CONTEÚDO DE CADA QUESTÃO	HABILIDADE	Nº DE ACERTOS	PORCENTAGEM DE ACERTOS
Questão 01	Sequência numérica até 20.	EF01MA02	61	92,42%
Questão 02	Antecessor e Sucessor.	EF01MA02	63	95,45%
Questão 03	Antecessor e Sucessor.	EF01MA02	63	95,45%
Questão 04	Antecessor e Sucessor.	EF01MA02	61	92,42%
Questão 05	Operação de adição até 10.	EF02MA05	63	95,45%
Questão 06	Operação de adição até 10.	EF02MA05	63	95,45%
Questão 07	Operação de adição até 10.	EF02MA05	62	93,94%
Questão 08	Operação de subtração até 10.	EF02MA05	36	54,55%
Questão 09	Operação de subtração até 10.	EF02MA05	38	57,58%
Questão 10	Operação de subtração até 10.	EF02MA05	44	66,67



Rua Vereador Dr. José Roberto de Azevedo, s/nº - Jardim das Palmeiras
CEP: 83350-000, Morretes- PR,
Fone: (41) 3462-1266 Ramal: 4006
Email:edsmch1958@yahoo.com.br

1º ANOS

DISCIPLINA: Português

1º ANO A	1º ANO B	TOTAL DE ALUNOS	ALUNOS AVALIADOS
26	19	45	41

QUESTÕES	CONTEÚDO DE CADA QUESTÃO	HABILIDADE	Nº DE ACERTOS	PORCENTAGEM DE ACERTOS
Questão 01	Registro do nome.	EI03EF09	39	95,12%
Questão 02	Sequência alfabética.	EF01LP10	33	80,49%
Questão 03	Identificação das vogais.	EI03EF07	36	87,80%
Questão 04	Identificação das letras do nome no alfabeto.	EI03EF07	33	80,49%
Questão 05	Distinguir letras de outros sinais.	EI03EF09	29	70,73%
Questão 06	Identificar a letra inicial da figura.	EI03EF09	35	85,37%



Rua Vereador Dr. José Roberto de Azevedo, s/nº - Jardim das Palmeiras
 CEP: 83350-000, Morretes- PR,
 Fone: (41) 3462-1266 Ramal: 4006
 Email:edsrch1958@yahoo.com.br

DISCIPLINA: Matemática

1º ANO A	1º ANO B	TOTAL DE ALUNOS	ALUNOS AVALIADOS
26	19	45	36

QUESTÕES	CONTEÚDO DE CADA QUESTÃO	HABILIDADE	Nº DE ACERTOS	PORCENTAGEM DE ACERTOS
Questão 01	Sequência numérica até 10.	EI03ET07	32	88,89%
Questão 02	Antecessor e Sucessor.	EF01MA02	32	88,89%
Questão 03	Identificação do numeral.	EF01MA02	33	91,67%
Questão 04	Identificação do numeral.	EF01MA02	33	91,67%
Questão 05	Identificação da quantidade.	EF01MA02	34	94,44%
Questão 06	Identificação de quantidade.	EF01MA02	35	97,22%
Questão 07	Posição.	EI03ET01	33	91,67%
Questão 08	Maior e menor.	EI03ET05	32	88,89%
Questão 09	Longe e perto.	EI03ET01	34	94,44%
Questão 10	Frente e atrás.	EI03ET01	33	91,67%



Rua Vereador Dr. José Roberto de Azevedo, s/nº - Jardim das Palmeiras
CEP: 83350-000, Morretes- PR,
Fone: (41) 3462-1266 Ramal: 4006
Email: edsmch1958@yahoo.com.br

AVALIAÇÕES

5º ANO - MATEMÁTICA

Questão 01 - A biblioteca da Escola Municipal “Dulce Seroa da Motta Cherobim” têm 2.356 de Literatura Infantil. Esse número é composto por:

- a) 2 unidades de milhar, 3 dezenas, 5 centenas e 6 unidades.
- b) 2 unidades de milhar, 3 centenas, 5 unidades e 6 dezenas.
- c) 2 unidades de milhar, 3 centenas, 5 dezenas e 6 unidades.
- d) 2 unidades de milhar, 3 centenas, 5 dezenas e 56 unidades

Questão 02 - Calcule o resultado da operação de adição e marque (x) na resposta correta.

O resultado da operação $572+239$ é:

- () 801 () 811 () 701

Questão 03 - Calcule o resultado da operação de subtração e marque (x) na resposta correta:

O resultado da operação $324-197$ é:

- () 127 () 273 () 521

Questão 04 - Calcule o resultado da operação de multiplicação e marque (x) na resposta correta:

O resultado da operação 846×3 é:

- () 2.528 () 2.428 () 2.538

Questão 05 - Calcule o resultado da operação de divisão e marque (x) na resposta correta:

O resultado da operação $1672:4$ é:

- () 438 () 428 () 418



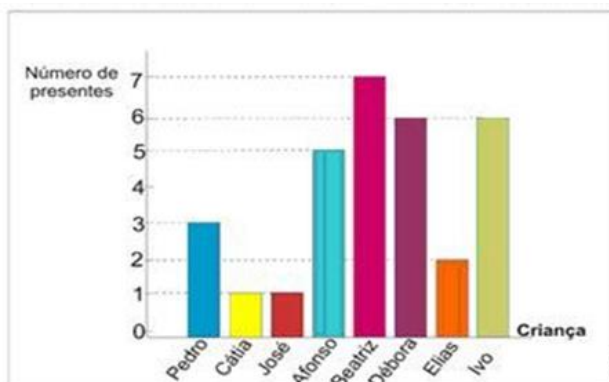
Rua Vereador Dr. José Roberto de Azevedo, s/nº - Jardim das Palmeiras
CEP: 83350-000, Morretes- PR,
Fone: (41) 3462-1266 Ramal: 4006
Email: edsmch1958@yahoo.com.br

Questão 06 - Marque a resposta correta:

QUANTO TEM?

R\$ 154,10	R\$ 153,10	R\$ 155,10
------------	------------	------------

Questão 07 - Observe o gráfico:



Qual criança ganhou mais presente?

Questão 08 - Lucas comprou 1 centena e meia de varinhas para fazer bandeirinhas.

Quantas varinhas ele comprou ao todo?



Rua Vereador Dr. José Roberto de Azevedo, s/nº - Jardim das Palmeiras
CEP: 83350-000, Morretes- PR,
Fone: (41) 3462-1266 Ramal: 4006
Email: edsmch1958@yahoo.com.br

Questão 09 - Desenhe os ponteiros no relógio marcando 10 horas e 30 minutos.



Questão 10 - Complete com o sinal de > ou <:

2104 _____ 1204



Rua Vereador Dr. José Roberto de Azevedo, s/nº - Jardim das Palmeiras
CEP: 83350-000, Morretes- PR,
Fone: (41) 3462-1266 Ramal: 4006
Email: edsmch1958@yahoo.com.br

5º ANO - LÍNGUA PORTUGUESA

Questão 01 - Leia:

O cravo e a rosa

O cravo brigou com a rosa

Debaixo de uma sacada

O cravo saiu ferido

E a rosa despedaçada

O cravo ficou doente

E a rosa foi visitar

O cravo teve um desmaio

E a rosa pôs-se a chorar.

Assinale a alternativa correta:

() A rosa ficou doente

() O cravo foi visitá-la

() A rosa brigou com o cravo

() O cravo teve um desmaio

Questão 02 - Escreva em ordem alfabética o nome dos animais abaixo:

sapo - tatu - gambá - arara - rato - vaca - leão - ema - borboleta - javali



Rua Vereador Dr. José Roberto de Azevedo, s/nº - Jardim das Palmeiras
CEP: 83350-000, Morretes- PR,
Fone: (41) 3462-1266 Ramal: 4006
Email: edsmch1958@yahoo.com.br

Questão 03 - Acentue corretamente a palavra abaixo com acento agudo ou acento circunflexo.

lampada

Questão 04 - Leia as frases e assinale a coloque a pontuação correta (ponto final, ponto de exclamação ou ponto de interrogação):

Que noite agradável

Questão 05 - Elabore uma frase afirmativa.

Questão 06 - Separe a sílaba da palavra:

ABUSO _____

Questão 07 - Assinale a alternativa que contem encontro vocálico:

() atual – salário – outros

() trator – flauta – pedra

() Uruguai – duelo – dama

Questão 08 - Assinale a alternativa correta para encontro consonantal:

() página – boneca – noite

() rápido – menina – convite

() globo – trator – mochila



Rua Vereador Dr. José Roberto de Azevedo, s/nº - Jardim das Palmeiras
CEP: 83350-000, Morretes- PR,
Fone: (41) 3462-1266 Ramal: 4006
Email:edsrch1958@yahoo.com.br

Questão 09 - Leia o texto abaixo:

Espero você no meu 10º aniversário!
Será no sábado, dia 19/03 as 19 horas.
Local: Avenida Bom menino, nº 100.
Vamos nos divertir de montão!

Esse texto é:

- () uma carta
- () uma receita
- () um poema
- () um convite

Questão 10 - Retire do texto as palavras que estão acentuadas:



Rua Vereador Dr. José Roberto de Azevedo, s/nº - Jardim das Palmeiras
CEP: 83350-000, Morretes- PR,
Fone: (41) 3462-1266 Ramal: 4006
Email: edsmch1958@yahoo.com.br

4º ANO - MATEMÁTICA

Questão 01 - Escreva o número que a professora ditar:

Questão 02 - Escreva o nome do número 1.009 por extenso:

Questão 03 - Escreva o nome do número 43 por extenso:]

Questão 04 - Complete a sequência numérica abaixo:

20				24		26			
----	--	--	--	----	--	----	--	--	--

Questão 05 - Complete a sequência numérica abaixo:

857				861				865	
-----	--	--	--	-----	--	--	--	-----	--

Questão 06 - Calcule a operação $541 + 123$:

Questão 07 - Calcule a operação $762 - 648$:

Questão 08 - Calcule a operação 32×3 :

Questão 09 - Calcule a operação $8:2$.

Questão 10 - Vitor tinha 158 figurinhas da Turma da Mônica. Em um jogo perdeu 134 figurinhas. Quantas figurinhas ainda restaram?



Rua Vereador Dr. José Roberto de Azevedo, s/nº - Jardim das Palmeiras
CEP: 83350-000, Morretes- PR,
Fone: (41) 3462-1266 Ramal: 4006
Email: edsmch1958@yahoo.com.br

4º ANO - PORTUGUÊS

Questão 01 - Leia

A ONÇA E O SAPO

UM DIA, O SAPO ESTAVA À BEIRA DA LAGOA E CHEGOU A ONÇA.

__ NUNCA VI BICHO TÃO FEIO E PEQUENO!

__ DONA ONÇA, EU SEI QUE SOU FEIO E PEQUENO, MAS SOU MUITO VALENTE.

__ AH! ENTÃO VOCÊ É VALENTE? VAMOS VER QUEM ASSUSTA MAIS OS BICHOS DA FLORESTA!

A ONÇA URROU O MAIS QUE PÔDE. A BICHARADA TODA ESCONDEU-SE NO MATO.

__ AGORA, SAPO, É A SUA VEZ. VAMOS, COAXE!

O SAPO ENTÃO COAXOU.

IMEDIATAMENTE, RÃS, PERERECAS, JIAS E OUTROS SAPOS FIZERAM CORO.

A ONÇA LEVOU TAMANHO SUSTO QUE ATÉ HOJE ESTÁ CORRENDO PELA FLORESTA.

LIDIA M. MORAES

Qual o título da história? _____

Questão 02 - Quais eram os personagens principais? _____


Questão 03 - A onça disse que o sapo era...

Questão 04 - Qual o desafio que a onça fez ao sapo?



Rua Vereador Dr. José Roberto de Azevedo, s/nº - Jardim das Palmeiras
CEP: 83350-000, Morretes- PR,
Fone: (41) 3462-1266 Ramal: 4006
Email: edsmch1958@yahoo.com.br

Questão 05 - Observe a tirinha:



os personagens estão cuidando de uma planta. em que a Magali está pensando?

Questão 06 - O que o Cebolinha está pensando?


Questão 07 - O que o Cascão está pensando?



Rua Vereador Dr. José Roberto de Azevedo, s/nº - Jardim das Palmeiras
CEP: 83350-000, Morretes- PR,
Fone: (41) 3462-1266 Ramal: 4006
Email: edsmch1958@yahoo.com.br

3º ANO - MATEMÁTICA

Questão 01 - COMPLETE A TABELA COM OS NÚMEROS E DESENHOS QUE FALTAM:

Número	27	
Representação		

Questão 02 - NOAH, LAURA E ANDRÉ, JOGARAM DADOS. OBSERVE OS PONTOS QUE CADA UM FEZ:



AO ARREDONDAR PARA AS DEZENAS MAIS PRÓXIMAS, AS QUANTIDADES DE PONTOS FEITOS PELAS CRIANÇAS FORAM:

- () 10, 20, 30
- () 10, 30, 40
- () 10, 20, 40
- () 10, 30, 20



Rua Vereador Dr. José Roberto de Azevedo, s/nº - Jardim das Palmeiras
CEP: 83350-000, Morretes- PR,
Fone: (41) 3462-1266 Ramal: 4006
Email: edsmch1958@yahoo.com.br

Questão 03 - LEIA A RECEITA DE BOLO QUE MAMÃE FEZ:

BOLO DE CHOCOLATE

INGREDIENTES:

3 XÍCARAS DE FARINHA E TRIGO

2 XÍCARAS DE AÇÚCAR

1 XÍCARA DE LEITE

6 COLHERES DE SOPA CHEIAS DE CHOCOLATE EM PÓ

1 COLHER DE SOPA DE FERMENTO

7 OVOS

B) QUAL INGREDIENTE FOI USADO EM MAIOR NÚMERO?

- () FARINHA DE TRIGO
- () OVOS
- () CHOCOLATE EM PÓ
- () AÇÚCAR

Questão 04 - OBERVE AS BALINHAS EM FORMAS DE CORAÇÃO, DENTRO DOS POTES. CONTE QUANTAS BALINHAS E MARQUE A RESPOSTA CORRETA.



- () 2 DEZENAS
- () 2 DEZENAS E 7 UNIDADES
- () 3 DEZENAS E 3 UNIDADES
- () 2 DEZENAS E 8 UNIDADES



Rua Vereador Dr. José Roberto de Azevedo, s/nº - Jardim das Palmeiras
CEP: 83350-000, Morretes- PR,
Fone: (41) 3462-1266 Ramal: 4006
Email: edsmch1958@yahoo.com.br

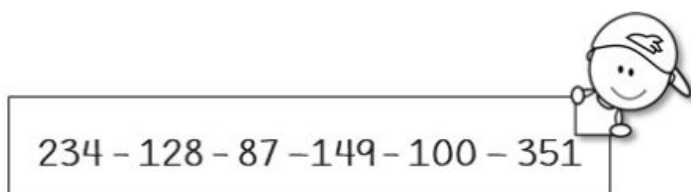
Questão 05 - OBERVE OS ACESSÓRIOS ABAIXO.



QUAL DELES SÃO USADOS EM PARES?

- () OS SAPATOS E OS BRINCOS
- () O CHAPÉU E A GRAVATA
- () O ANEL E O BONÉ
- () OS SAPATOS E O CHAPÉU

Questão 06 - ORDENE OS NÚMERAIS EM ORDEM CRESCENTE E MARQUE UM X NA ALTERNATIVA CORRETA:



- () 87 - 100 - 128 - 149 - 351 - 234
- () 87 - 100 - 128 - 149 - 234 - 351
- () 87 - 234 - 149 - 100 - 128 - 234
- () 100 - 87 - 128 - 234 - 351 - 149

Questão 07 - A PROFESSORA FEZ UMA PESQUISA PARA SABER QUAIS LANCHES OS ALUNOS DA TURMA DA MANHÃ PEFEREM CONSUMIR NA HORA DO RECREIO. O RESULTADO ESTÁ NA TABELA ABAIXO.

LANCHES	QUANTIDADE DE ALUNOS
FRUTAS	27
PÃO DE QUEIJO	68



Rua Vereador Dr. José Roberto de Azevedo, s/nº - Jardim das Palmeiras
 CEP: 83350-000, Morretes- PR,
 Fone: (41) 3462-1266 Ramal: 4006
 Email: edsmch1958@yahoo.com.br

BOLO	45
SANDUÍCHE	32
BISCOITOS	51

O LANCHE PREFERIDO FOI:

- BISCOITO
- FRUTAS
- PÃO DE QUEIJO
- BOLO

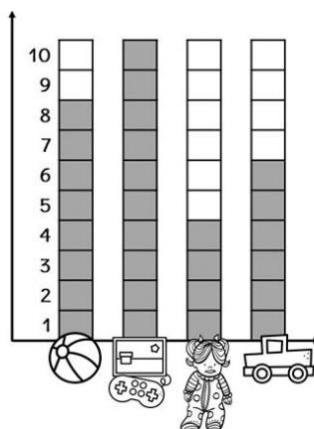
Questão 08 - A QUANTIDADE DE ALUNOS QUE PREFERIRAM FRUTAS, FORAM:

- 51
- 68
- 32
- 27

Questão 09 - QUANTOS ALUNOS PREFERIRAM BOLO E SANDUÍCHE?

- 67
- 77
- 13
- 76

8. A PROFESSORA FEZ UMA PESQUISA EM SUA TURMA PARA SABER QUAL O BRINQUEDO PREFERIDO DOS ALUNOS. OBSERVE O GRÁFICO:



A QUANTIDADE DE ALUNOS QUE PREFERIU A BOLA.

- 8
- 9
- 10
- 4



Rua Vereador Dr. José Roberto de Azevedo, s/nº - Jardim das Palmeiras
CEP: 83350-000, Morretes- PR,
Fone: (41) 3462-1266 Ramal: 4006
Email: edsmch1958@yahoo.com.br

3º ANO - PORTUGUÊS

1. MARQUE UM X NO ALFABETO QUE ESTÁ NA ORDEM CORRETA:

A-B-C-K-L-D-E-F-G-H-I-J M-N-O-P-Q-R-S-T-U-V-W-X-Z.

A-B-C-D-E-F-G-H-I-J-K-L-M-N-O-P-Q-R-S-T-U-V-W-X-Y-Z.

A-B-C-D-E-F-G-H-I-J-K-LP-Q-R-S-T-M-N-O-U-V-W-X-Z.

A- G-H-B-C-D-E-F-I-J-K-L-M-N-O-P-Q-R-S-T-U-V-W-X-Z.

2. MARQUE UM X ONDE APARECE APENAS LETRAS.

? ; . ! : + - x % \$

216890 CANETA

3. MARQUE UM X NO QUADRADINHO ONDE ESTÁ ESCRITO CORRETAMENTE O NOME DO DESENHO.



() POTA () PATO () OTPA () TPAO

4. MARQUE UM X ONDE ESTÁ ESCRITO A LETRA F QUATRO VEZES:

F f t l

f F f F

F L F f

F f t f



Rua Vereador Dr. José Roberto de Azevedo, s/nº - Jardim das Palmeiras
CEP: 83350-000, Morretes- PR,
Fone: (41) 3462-1266 Ramal: 4006
Email: edsmch1958@yahoo.com.br

5. MARQUE UM X NO QUADRADINHO QUE MOSTRA QUANTAS SÍLABAS TEM A PALAVRA ABAIXO:

BONECA

4 3 2 5

6. MARCA UM X NO QUADRADINHO QUE MOSTRA A PALAVRA QUE RIMA COM O DESENHO:



() PATO () MOLA () RALO () FOGO

7. OBSERVE A PARLENDIA E RESPONDA:

MEIA DIA
MACACA SOFIA
PANELA NO FOGO
BARRIGA VAZIA

QUANTAS PALAVRAS TEM A PARLENDIA?

() 6 () 9 () 8 () 7

8. OBSERVE O DESENHO E RESPONDA QUAL É A FRASE QUE INDICA O QUE A VACA ESTÁ FAZENDO:



() A VACA BERRA.
() A VACA DEITA.
() A VACA COME MATO.



Rua Vereador Dr. José Roberto de Azevedo, s/nº - Jardim das Palmeiras
CEP: 83350-000, Morretes- PR,
Fone: (41) 3462-1266 Ramal: 4006
Email: edsmch1958@yahoo.com.br

() A VACA ESTÁ DANDO LEITE.

09. OUÇA A LEITURA DE UM TRECHO DA FÁBULA FEITA PELA PROFESSORA E RESPONDA:

A CIGARRA E A FORMIGA

HÁ MUITO TEMPO, NA FLORESTA, VIVIA UMA CIGARRA QUE SEMPRE CANTAVA EM UM PEQUENO GALHO AO PÉ DO FORMIGUEIRO. ELE SE DIVERTIA MUITO EM VER AS FORMIGAS TRABALHANDO...

ONDE ACONTECEU ESSA HISTÓRIA?

() NA CIDADE. () NA PRAIA. () NA FLORESTA. () NA ESTRADA.

10. LEIA O TEXTO COM A AJUDA DO PROFESSORA:



POR QUE O CASCÃO DISSE ISTO?

() PORQUE ELE TEM MEDO DE SABÃO.

() PORQUE ELE NÃO GOSTA DE TOMAR BANHO.

() PORQUE ELE CONTOU UMA PIADA.

() PORQUE ELE FEZ CARA DE MEDO.



Rua Vereador Dr. José Roberto de Azevedo, s/nº - Jardim das Palmeiras
CEP: 83350-000, Morretes- PR,
Fone: (41) 3462-1266 Ramal: 4006
Email: edsmch1958@yahoo.com.br

2º ANO - MATEMÁTICA

1. COMPLETE A SEQUÊNCIA NUMÉRICA.

1		3		5
6			9	
11	12		14	
	17			20

2. COMPLETE COM OS VIZINHOS DO NÚMERO 8.

_____ 8 _____

3. COMPLETE COM OS VIZINHOS DO NÚMERO 9.

_____ 9 _____

4. COMPLETE COM OS VIZINHOS DO NÚMERO 7.

_____ 7 _____

5. QUAL O RESULTADO DE $5 + 5$: _____

6. QUAL O RESULTADO DE $3 + 2$: _____

7. QUAL O RESULTADO DE $4 + 1$: _____

8. QUAL O RESULTADO DE $9 - 3$: _____

9. QUAL O RESULTADO DE $7 - 6$: _____

10. QUAL O RESULTADO DE $5 - 1$: _____



Rua Vereador Dr. José Roberto de Azevedo, s/nº - Jardim das Palmeiras
CEP: 83350-000, Morretes- PR,
Fone: (41) 3462-1266 Ramal: 4006
Email: edsmch1958@yahoo.com.br

2º ANO - PORTUGUÊS

1. ESCREVA SEU NOME COMPLETO.

2. COMPLETE O ALFABETO.

A	B		D			G		I
	K			N			Q	
S			V	W		Y		

3. PINTE A PALAVRA CORRETA.



MACA

MACACO

MALA



BALA

BALEIA

BANANA



GATO

GOLA

GOTA



PENA

PETECA

PEIXE



RODA

RÁDIO

RATO



CAMELO

CABELO

CML



Rua Vereador Dr. José Roberto de Azevedo, s/nº - Jardim das Palmeiras
CEP: 83350-000, Morretes- PR,
Fone: (41) 3462-1266 Ramal: 4006
Email: edsmch1958@yahoo.com.br

1º ANO - MATEMÁTICA

1. REGISTRE SEU NOME.

2. COMPLETE O ALFABETO COM AS LETRAS QUE FALTAM.

A	B		D			G		I
	K			N			Q	
S			V	W		Y		

3. CIRCULE SOMENTE AS VOGAIS.

I B O V E U L Z
C A T K P R M

4. CIRCULE NO ALFABETO AS LETRAS DO SEU NOME.

A B C D E F G H I J K L
M N O P Q R S T U V W
X Y Z.



Rua Vereador Dr. José Roberto de Azevedo, s/nº - Jardim das Palmeiras
CEP: 83350-000, Morretes- PR,
Fone: (41) 3462-1266 Ramal: 4006
Email: edsmch1958@yahoo.com.br

5. PINTE SOMENTE AS LETRAS.

A B 2 C 3 D E 5

6. CIRCULE A LETRA INICIAL DA FIGURA ABAIXO:



A E I O U



Rua Vereador Dr. José Roberto de Azevedo, s/nº - Jardim das Palmeiras
CEP: 83350-000, Morretes- PR,
Fone: (41) 3462-1266 Ramal: 4006
Email: edsmch1958@yahoo.com.br

1º ANO - MATEMÁTICA


1. COMPLETE QUADRO NUMÉRICO.

1		3							10
---	--	---	--	--	--	--	--	--	----


2. FAÇA OS VIZINHOS.

 2


3. ESCREVA A QUANTIDADE DE ANIMAIS.



4. ESCREVA A QUANTIDADE DE ANIMAIS.



5. PINTE A TRÊS MAÇAS.




6. PINTE 5 BOTÕES.






Rua Vereador Dr. José Roberto de Azevedo, s/nº - Jardim das Palmeiras
CEP: 83350-000, Morretes- PR,
Fone: (41) 3462-1266 Ramal: 4006
Email: edsmch1958@yahoo.com.br

7. QUAL PEIXE SE ENCONTRA NA MESMA POSIÇÃO:



8. QUAL É O GATO MAIOR.



9. RISQUE A BOLA QUE ESTÁ LONGE DA CASA E PINTE DE AZUL A BOLA QUE ESTÁ EM CIMA:



10. FAÇA UM X NA CRIANÇA QUE ESTÁ ATRÁS E PINTE A CRIANÇA QUE ESTÁ NA FRENTE:

