

ESCOLA MUNICIPAL PROFESSOR ARLINDO DE CASTRO

EDUCAÇÃO INFANTIL E ENSINO FUNDAMENTAL

Rua Desauda Bosco da Costa Pinto, s/nº, Vila Santo Antônio

Email: emp_arlindodecastro@hotmail.com

Email: esc.prof-Arlindodecastro@morretes.pr.gov.br

CEP 83350-000 - Morretes/PR

Ofício nº 26/2024

Ilma. Sr^a
Adriana Assumpção
Secretaria Municipal de Educação e Esportes
Nesta

Morretes, 10 de abril de 2024.

Prezada Secretária

Venho através deste encaminhar a Vossa Senhoria o "Resultado da Aplicação das Avaliações Diagnósticas – 2024" realizadas com os alunos deste Estabelecimento de Ensino Sem mais para o momento, agradeço.


Fabiane do Rocio Valério Chagas
Diretora
Fabiane do Rocio Valério Chagas
Portaria 2082/23
DOE 9/01/23
Diretora

ESCOLA MUNICIPAL PROFESSOR ARLINDO DE CASTRO

RESULTADOS DIAGNÓSTICO INFANTIL 4

**DIAGNÓSTICOS APLICADOS ENTRE
OS DIAS 04 E 08/03/2024**

ESCOLA MUNICIPAL PROFESSOR ARLINDO DE CASTRO.

AVALIAÇÃO DIAGNÓSTICA EDUCAÇÃO INFANTIL

PROFESSORA: EVERLIZE



Aplicado nos dias 5 e 6 de março.

1 – Descritor de relação espacial – pintar os passarinhos que estão fora da gaiola.

(15) acertos (2) erros

2 – Descritor de relação espacial – pintar o aquário que tem peixinhos dentro.

(15) acertos (2) erros

3 – Descritor de semelhanças e diferenças entre os elementos, tamanho – circular a borboleta maior.

(15) acertos (2) erros

4 – Descritor de semelhanças e diferenças entre os elementos, tamanho – pintar a flor menor.

(12) acertos (5) erros

5 – Descritor de semelhanças e diferenças – pintar a figura diferente em cada sentença.

(9) acertos (8) erros

6 – Descritor de partes iguais – ligar para conectar cada imagem a sua metade.

(15) acertos (2) erros

7 – Descritor de formas geométricas – ligar as formas geométricas iguais.

(15) acertos (2) erros

8 – Descritor de formas geométricas (cores) – pintar nas cores indicadas.

(16) acertos (1) erros

9 – Descritor de percepção visual – ligar o desenho à sua sombra.

(17) acertos (0) erros

10 – Descritor de cor e forma – pintar de vermelho a imagem que tem formato de círculo.

(9) acertos (8) erros

11 – Descritor de números e quantidades – ligar os conjuntos de animais aos números correspondentes. (números, 1 ao 3)

(7) acertos (10) erros

12 – Descritor de coordenação motora fina – cobrir os pontilhados.

(15) acertos (2) erros

13 – Descritor de identidade, reconhecimento do nome) – encontrar a maçã com a primeira letra do nome e pintar.

(11) acertos (6) erros

14 – Descritor de letras e números – circular apenas as letras presentes na imagem.

(3) acertos (14) erros

15 – Descritor de diferenças letras e números – circular apenas os números.


(4) acertos (13) erros

16 – Descritor de identidade, reconhecimento do nome – reconhecer o nome próprio utilizando o crachá.

(9) acertos (8) erros

1

PINTE OS PASSARINHOS
QUE ESTÃO FORA DA
GAIOLA



Não se esqueça
do colorido!


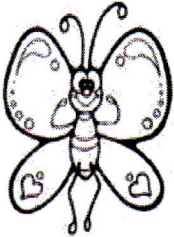


2


VAMOS PINTAR BEM BONITO O AQUÁRIO
QUE TEM PEIXINHOS DENTRO.



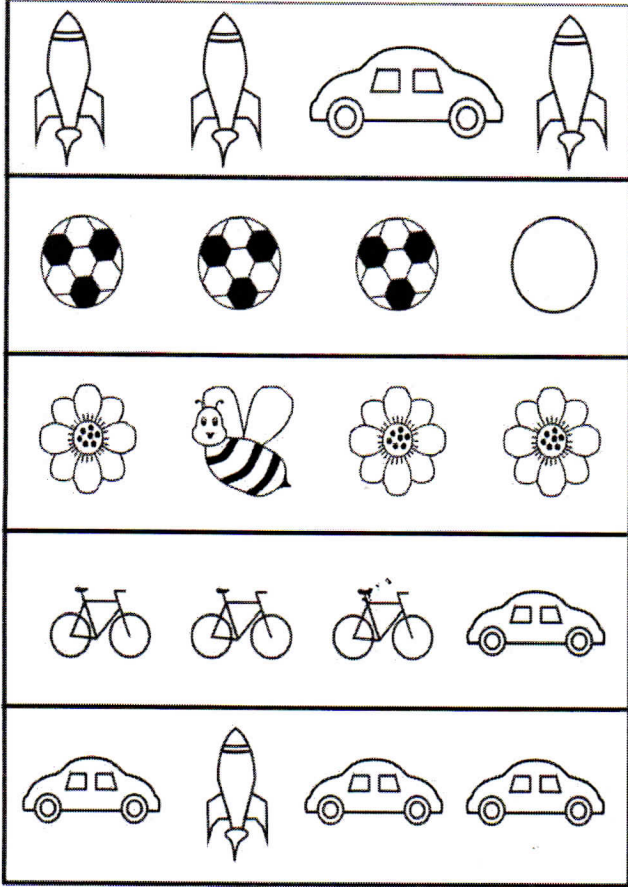
3 - CIRCULE A BORBOLETA MAIOR:




4 - PINTE A FLOR MENOR:




5 - PINTE A FIGURA DIFERENTE EM CADA SENTENÇA:




6 - LIGUE COM UM TRAÇO PARA CONECTAR CADA IMAGEM COM SUA METADE.




7 - LIGUE AS FORMAS GEOMÉTRICAS IGUAIS:



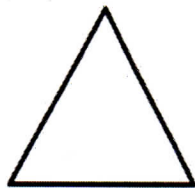
TRIÂNGULO




QUADRADO




CÍRCULO



TRIÂNGULO



QUADRADO



CÍRCULO


8 - VAMOS COLORIR AS FIGURAS GEOMÉTRICAS USANDO AS CORES INDICADAS:




AMARELO



AZUL





VERDE


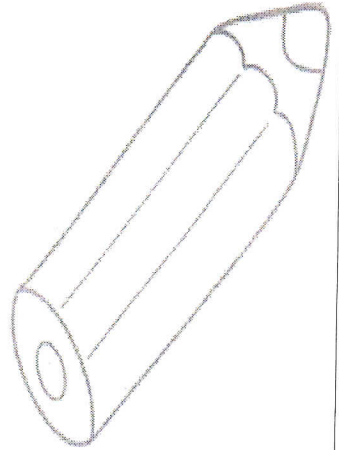


VERMELHO


9- LIGUE O DESENHO À SUA SOMBRA:




10- PINTAR DE VERMELHO O QUE TEM FORMATO DE CÍRCULO:




11 - LIGUE OS CONJUNTOS DE ANIMAIS AOS NÚMEROS CORRESPONDENTES:



1




3



2

12

ATIVIDADES DE COORDENAÇÃO MOTORA FINA COM LAPIS E CANETINHAS COLORIDAS!




Objetivo:

Fortalecimento da tonicidade dedos, mãos e pulso.

Fortalecimento muscular na parte ombro e braço.

Proporcionar o estudo de cores e formas.

COBRINDO OS PONTILHADOS:



ENCONTRE A MAÇÃ COM A PRIMEIRA LETRA DO SEU NOME E PINTE-A.



15 - CIRCULE APENAS AS LETRAS PRESENTES NA IMAGEM:




A



5



3




B



16 - VOCÊ CONSEGUE DIFERENCIAR LETRAS DOS NÚMEROS?

CIRCULE APENAS OS NÚMEROS:



ESCOLA MUNICIPAL PROFESSOR ARLINDO DE CASTRO

RESULTADOS DIAGNÓSTICO INFANTIL 5

**DIAGNÓSTICOS APLICADOS ENTRE
OS DIAS 04 E 08/03/2024**

ESCOLA MUNICIPAL PROFESSOR ARLINDO DE CASTRO

**RESULTADO DIAGNÓSTICO
INFANTIL 5**



DOCENTE: Marcela Araújo
Data da aplicação: 08/03/2024

ALUNOS: 23

QUESTÃO 1:

Escreva seu nome com capricho: (EI03EF09)	Acertos: 18	Erros: 5
--	-------------	----------

QUAESTÃO 2:

Pinte apenas as maçãs que têm letras: (EI03EF09)	Acertos: 19	Erros: 6
---	-------------	----------

QUESTÃO 3: D13

Pinte o aquário que tem mais peixinhos: (EI02CG02)	Acertos: 19	Erros: 6
---	-------------	----------

QUESTÃO 4: D13

Marque com um X o mais alto: (EI02CG02)	Acertos: 20	Erros: 3
--	-------------	----------

QUESTÃO 5:

Pinte a cesta que está cheia: (EI02CG02)	Acertos: 22	Erros: 1
--	-------------	----------

QUESTÃO 6:

Pinte o que está em cima da mesa: (EI02CG02)	Acertos: 21	Erros: 2
---	-------------	----------

QUESTÃO 7:

Encontre e pinte o cãozinho que está em posição diferente: (EI02CG02)	Acertos: 21	Erros: 2
--	-------------	----------

ESCOLA MUNICIPAL PROFESSOR ARLINDO DE CASTRO
MORRETES, _____ DE MARÇO DE 2024.


ALUNO(A): _____ INFANTIL 5

AVALIAÇÃO DIAGNÓSTICA




1) ESCREVA SEU NOME COM CAPRICHOS:

2) PINTA APENAS AS MAÇÃS QUE TEM LETRAS:




3) PINTA O AQUÁRIO ONDE TEM MAIS PEIXINHOS:




4) MARQUE COM UM X O MAIS ALTO:




5) PINTE A CESTA QUE ESTÁ CHEIA:



6) PINTE O QUE ESTÁ EM CIMA DA MESA:



7) ENCONTRE E PINTE O CÃOZINHO QUE ESTÁ EM POSIÇÃO DIFERENTE:



ESCOLA MUNICIPAL PROFESSOR ARLINDO DE CASTRO

RESULTADOS DIAGNÓSTICO 1º ANO

**DIAGNÓSTICOS APLICADOS ENTRE
OS DIAS 04 E 08/03/2024**

AVALIAÇÃO DIAGNÓSTICA

DATA 04 E 06-MARÇO-2024

ESCOLA MUNICIPAL PROFESSOR ARLINDO DE CASTRO

PROFESSORA MÔNICA CORRÊA LIMA

TURMA 1º ANO A

DISCIPLINA LÍNGUA PORTUGUESA

QUESTÃO DESCRITOR ACERTOS ERROS

QUESTÃO 1 (D4) 23 ACERTOS - 03 ERROS
QUESTÃO 2 (D4) 23 ACERTOS - 03 ERROS
QUESTÃO 3 (D1) 18 ACERTOS - 08 ERROS
QUESTÃO 4 (D2) 17 ACERTOS - 09 ERROS
QUESTÃO 6 (D3) 19 ACERTOS - 07 ERROS
QUESTÃO 7 (D2) 17 ACERTOS - 09 ERROS
QUESTÃO 8 (D8) 24 ACERTOS - 02 ERROS
QUESTÃO 9 (D4) 20 ACERTOS - 06 ERROS
QUESTÃO 10 (D3) 19 ACERTOS - 07 ERROS



ESCOLA _____

ALUNO(A) _____


DATA : ____ / ____ / ____

PROFESSORA _____

AVALIAÇÃO
DIAGNÓSTICA
DE
LÍNGUA PORTUGUESA




Escrever o nome com autonomia



D4




Cobrir o pontilhado

D4



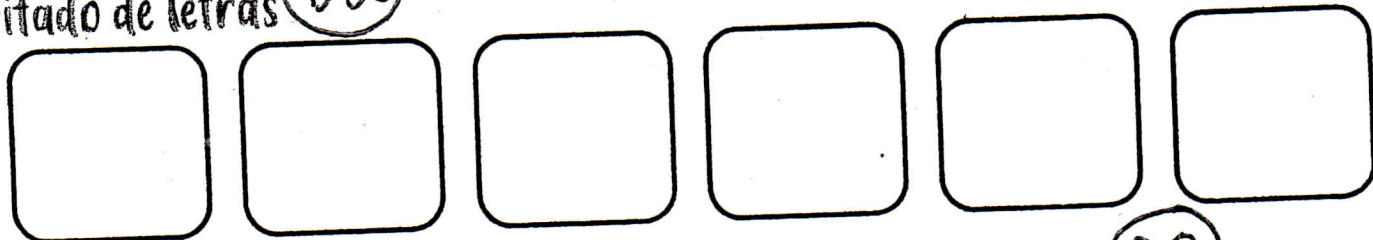
Identificar a placa que possui letras

D1



Ditado de letras

D2




Reconhecer e nomear as letras do Alfabeto fora da ordem

D3

C	P	T	X	E	W	O	D	R
U	S	G	A	V	M	J	Y	K
H	I	N	Q	F	Z	B	L	




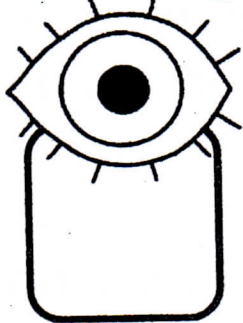

Escrever o nome: _____



Nomear as letras - Encontrar a letra indicada (D2)

C	P	T	X	E	W	O	D	R
U	S	G	A	V	M	J	Y	K
H	I	N	Q	F	Z	B	L	

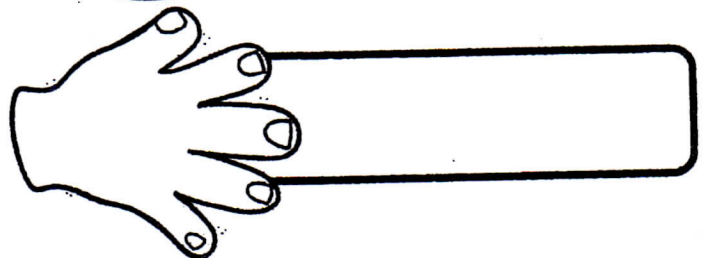

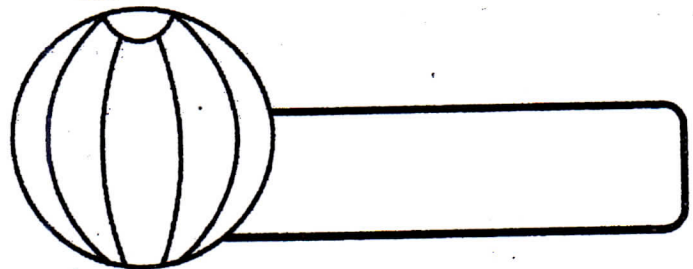
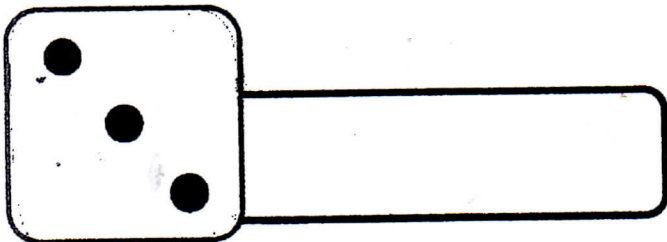
Escrever a Vogal inicial (D8)



Ditado de letras (D3)

--	--	--	--	--	--

Escrita espontânea de palavras simples (D4)



ESCOLA MUNICIPAL PROFESSOR ARLINDO DE CASTRO

RESULTADOS DIAGNÓSTICO 2º ANO "A" 2º ANO "B"

**DIAGNÓSTICOS APLICADOS ENTRE
OS DIAS 04 E 08/03/2024**



ESCOLA MUNICIPAL PROF ARLINDO DE CASTRO
MORRETES, _____ DE MARÇO DE 2024

ALUNO (A): _____ 2º ANO A


PROFESSORA RAPHAELA FONSECA

AVALIAÇÃO DIAGNÓSTICA

ESCREVA SEU NOME NO ESPAÇO ABAIXO:



RECORTE E COLE NO ESPAÇO ABAIXO, AS LETRAS QUE FORMAM O SEU NOME:



QUAL É A PRIMEIRA LETRA DO SEU NOME?

QUAL É A ÚLTIMA LETRA DO SEU NOME?

RECORTE E COLE AS FIGURAS DE ACORDO COM A INICIAL DO SEU NOME:

A


E

I

O

U

CAPRICHE!




MATERIAL DE APOIO



COMPLETE O ALFABETO COM AS LETRAS FALTOSAS:

A				E
		H		
K				O
		R		
Z				



AUTO-DITADO:

1

2

3

4

5

6

7



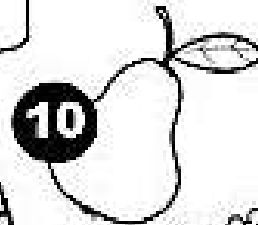
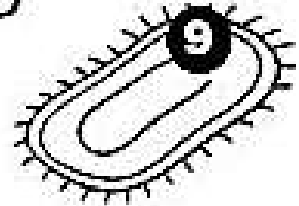
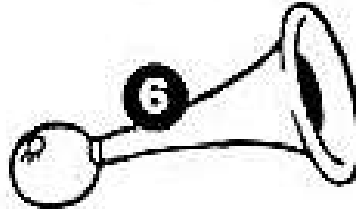

8

9

10

11

12





ESCOLA MUNICIPAL PROF ARLINDO DE CASTRO
MORRETES, _____ DE MARÇO DE 2024

ALUNO (A): _____ 2º ANO

PROFESSORAS: HELEN RAMOS

RAPHAELA FONSECA

AVALIAÇÃO DIAGNÓSTICA

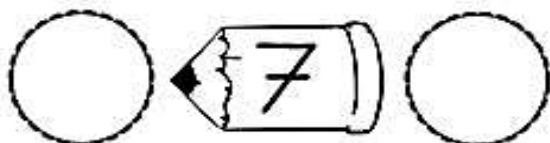

1- COMPLETE A SEQUENCIA NUMÉRICA

1		3		5
6			9	
11	12		14	
	17			20

2- COMPLETE COM OS VIZINHOS

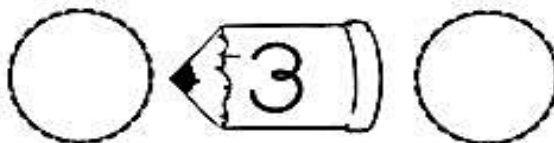
ANTES

DEPOIS




ANTES

DEPOIS




PROBLEMINHAS

NUMA FAZENDA HAVIA 8 VAQUINHAS E 3 BOIS. QUANTOS ANIMAIS A FAZENDA TINHA NO TOTAL?



O AQUÁRIO DE ALICE POSSUI 5 PEIXINHOS DOURADOS E 4 PEIXES PALHAÇO. QUANTOS PEIXES NO TOTAL ALICE TEM?



1 ALICE TINHA 6 PULSEIRAS, MAS PERDEU 2. COM QUANTAS PULSEIRAS ELA FICOU?
CÁLCULO


RESPOSTA








2 NA FESTA DE ANIVERSÁRIO DE RENATO HAVIA 8 BALÕES, MAS ESTOURARAM 3. QUANTOS BALÕES RESTARAM?

CÁLCULO

RESPOSTA



REGISTRE ABAIXO A QUANTIDADE DE CADA ELEMENTO:



VAMOS SEGUIR A TRILHA CALCULANDO?

7	-	3	=	
			+	
			5	
			=	

6	+	2	=	
			-	
			4	
			=	

8	+	1	=	
			-	
			2	
			=	

6	+		=				
			-				
			3	+	4	=	
			=			-	
						3	
						=	

	-	2	=	
			+	
			3	
			=	

0	+	4	=	
			+	

2	+	5	=	
			-	
			3	
			=	
	+	4	=	

10	-	5	=	
			-	
			=	
4	+		=	
			=	

ESCOLA MUNICIPAL PROFESSOR ARLINDO DE CASTRO

RESULTADOS DIAGNÓSTICO 3º ANO

**DIAGNÓSTICOS APLICADOS ENTRE
OS DIAS 04 E 08/03/2024**



ESCOLA MUNICIPAL PROF ARLINDO DE CASTRO

PROFESSORA: RAPHAELA FONSECA

RESULTADO DA AVALIAÇÃO DIAGNÓSTICA 3º ANO

PORTUGUÊS:

QUESTÃO	DESCRITOR	ERROS	ACERTOS
1	D8	4	17
2	D2	4	17
3	D4	5	16
4	D13	5	16
5	D12	5	16

MATEMÁTICA:

QUESTÃO	DESCRITOR	ERROS	ACERTOS
1	D4	1	20
2	D4	0	20
3	D7	5	16
4	D10	5	16
5	D10	7	14



ESCOLA MUNICIPAL PROF ARLINDO DE CASTRO
MORRETES, _____ DE MARÇO DE 2024

ALUNO (A): _____ 3º ANO

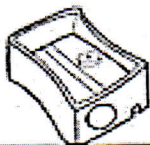

PROFESSORA: RAPHAELA FONSECA

AVALIAÇÃO DIAGNÓSTICA

VOLTA ÀS AULAS

CHEGOU A HORA DE VOLTAR!

ESCREVA O NOME DE CADA MATERIAL ESCOLAR




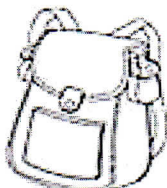


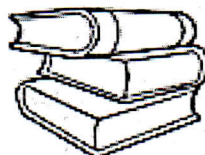














ORGANIZE OS MATERIAIS EM ORDEM ALFABÉTICA:

1	
2	
3	

4	
5	
6	

7	
8	
9	

SEPRE AS PALAVRAS E DESCUBRA AS FRASES.



HOJEPEGUEIUMAFLOR.



QUEROCHEGARCEDOEMCASA.



ESTOUFELIZEVOUGRITAR.



PRECISOCORRERUMPOUCO.

LEIA O TEXTO:

A PIPA DO PEPITO

PEPITO GANHOU UMA PIPA DO PAPAÍ.

ERA UMA PIPA COLORIDA.

PEPITO CORRE, CORRE COM A PIPA E ELA VOA BEM ALTO.

PEPITO AMA BRINCAR DE PIPA.



COMPREENSÃO DA LEITURA

1. QUAL É O TÍTULO DA LEITURA?

2. O QUE PEPITO GANHOU?

3. COMO ERA A PIPA?

4. O QUE PEPITO FAZ COM A PIPA?

DITADO COLORIDO - FRASES

A	MARIA	CAIU	O	MATO.
O	MACACO	BOTOU	NA	LÁPIS.
A	BOLA	É	DE	CAJU.
★	SUCO	PERDEU	UM	ÁRVORE
O	GALINHA	SUBIU	NO	OVO.





ESCOLA MUNICIPAL PROF ARLINDO DE CASTRO
MORRETES, _____ DE MARÇO DE 2024

ALUNO (A): _____ 3º ANO

PROFESSORA: RAPHAELA FONSECA



AVALIAÇÃO DIAGNÓSTICA

1. Complete a tabela com números até 100.

1		3		5		7	8		
11	12		14		16		18		20
21		23		25		27		29	
	32		34		36		38		40
41				45		47		49	
	52		54		56		58		60
		63				67		69	
71			74		76		78		
	82			85		87		89	
91					96				


2. Escreva o antecessor e o sucessor dos números abaixo:

- a) _____ 19 _____
- b) _____ 28 _____
- c) _____ 56 _____
- d) _____ 65 _____
- e) _____ 88 _____



3. Escreva por extenso:

- a) 34: _____
- b) 45: _____
- c) 78: _____





**Resolva as continhas.
Faça com atenção!**

$$\begin{array}{r} 29 \\ -13 \\ \hline \end{array}$$

$$\begin{array}{r} 36 \\ +51 \\ \hline \end{array}$$

$$\begin{array}{r} 98 \\ -62 \\ \hline \end{array}$$

$$\begin{array}{r} 15 \\ +32 \\ \hline \end{array}$$

$$\begin{array}{r} 79 \\ -28 \\ \hline \end{array}$$



$$\begin{array}{r} 99 \\ -61 \\ \hline \end{array}$$

$$\begin{array}{r} 84 \\ +13 \\ \hline \end{array}$$

$$\begin{array}{r} 89 \\ -74 \\ \hline \end{array}$$

$$\begin{array}{r} 29 \\ -6 \\ \hline \end{array}$$

$$\begin{array}{r} 81 \\ +4 \\ \hline \end{array}$$



$$\begin{array}{r} 84 \\ -62 \\ \hline \end{array}$$

$$\begin{array}{r} 78 \\ -64 \\ \hline \end{array}$$

$$\begin{array}{r} 80 \\ -20 \\ \hline \end{array}$$

$$\begin{array}{r} 95 \\ -13 \\ \hline \end{array}$$

$$\begin{array}{r} 65 \\ -62 \\ \hline \end{array}$$

$$\begin{array}{r} 15 \\ +31 \\ \hline \end{array}$$

$$\begin{array}{r} 20 \\ +31 \\ \hline \end{array}$$

$$\begin{array}{r} 88 \\ +10 \\ \hline \end{array}$$

$$\begin{array}{r} 13 \\ +34 \\ \hline \end{array}$$

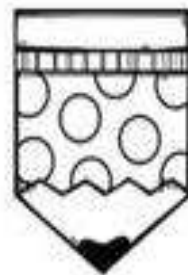
$$\begin{array}{r} 2 \\ \hline \end{array}$$

$$\begin{array}{r} 46 \\ \hline \end{array}$$

$$\begin{array}{r} 1 \\ \hline \end{array}$$

SITUAÇÕES-PROBLEMAS

GABRIEL TINHA 23 LÁPIS DE COR. NUMA SEMANA PERDEU 12 LÁPIS. COM QUANTOS LÁPIS GABRIEL FICOU?




CECÍLIA CONVIDOU OS 27 AMIGUINHOS DE CLASSE PARA O SEU ANIVERSÁRIO. FORAM APENAS 15 COLEGAS. QUANTOS FALTARAM?



PARA O ANIVERSÁRIO DE CECÍLIA, DONA CARLA FEZ ALGUNS DOCES DIFERENTES. ELA FEZ 28 DOCINHOS DE BETERRABA E 31 DE MANDIOCA. QUANTOS DOCINHOS DIFERENTES DONA CARLA FEZ?



DONA CARLA COMPROU UMA DÚZIA DE BALÕES COR DE ROSA, UMA DEZENA DE BALÕES AZUIS E MEIA CENTENA DE BALÕES COLORIDOS. QUANTOS BALÕES HAVIA NA FESTA?



**ESCOLA MUNICIPAL PROFESSOR
ARLINDO DE CASTRO**

**RESULTADOS
DIAGNÓSTICO
4º ANO**

DIAGNÓSTICOS APLICADOS ENTRE
OS DIAS 04 E 08/03/2024



AVALIAÇÃO DIAGNÓSTICA

Turma: 4º ano

Professora: Ivy Caron

- **LÍNGUA PORTUGUESA - CÓDIGOS / QUESTÕES**

Questão 1:

EF04LP01 – Grafar palavras utilizando regras de correspondência fonema-grafema regulares diretas e contextuais – 13 acertos
09 erros

Questão 2:

EF04LP01 – Grafar palavras utilizando regras de correspondência fonema-grafema regulares diretas e contextuais – 08 acertos
14 erros

Questão 3:

EF04LP01 – Grafar palavras utilizando regras de correspondência fonema-grafema regulares diretas e contextuais – 21 acertos
01 erros

Questão 4:

EF04LP01 – Grafar palavras utilizando regras de correspondência fonema-grafema regulares diretas e contextuais – 13 acertos
09 erros

Questão 5:

EF04LP01 – Grafar palavras utilizando regras de correspondência fonema-grafema regulares diretas e contextuais – 22 acertos
00 erros

Questão 6:

EF35LP03 – Identificar a ideia central do texto, demonstrando compreensão global –



20 acertos

02 erros

- **MATEMÁTICA - CÓDIGOS / QUESTÕES**

Questão 1:

EF03MA01 – Ler, escrever e comparar números naturais de até a ordem das unidades de milhar, estabelecendo relações entre os registros numéricos e em língua materna -

18 acertos

04 erros

Questão 2:

EF03MA10 – Identificar regularidades em sequências ordenadas de números naturais, resultantes da realização de adições ou subtrações sucessivas, por um mesmo número, descrever uma regra de formação da sequência e determinar elementos faltantes ou seguintes -

17 acertos

05 erros

Questão 3:

EF03MA10 – Identificar regularidades em sequências ordenadas de números naturais, resultantes da realização de adições ou subtrações sucessivas, por um mesmo número, descrever uma regra de formação da sequência e determinar elementos faltantes ou seguintes -

12 acertos

10 erros

Questão 4:

EF01MA05 – Comparar números naturais de até duas ordens em situações cotidianas, com ou sem suporte da reta numérica -

16 acertos

06 erros

Questão 5:

EF03MA06 – Resolver e elaborar problemas de adição e subtração com os significados de juntar, acrescentar, separar, retirar, comparar e completar quantidades, utilizando diferentes estratégias de cálculo exato ou aproximado, incluindo cálculo mental -

20 acertos



02 erros

Questão 6:

EF02MA14 – Reconhecimento e análise de figuras não-planas, suas características e representações (esfera, cilindro, cubo, pirâmide, bloco regular, prisma de base triangular, faces, arestas e vértices, planificações - 14 acertos

08 erros

Questão 7:

EF03MA06 – Resolver e elaborar problemas de adição e subtração com os significados de juntar, acrescentar, separar, retirar, comparar e completar quantidades, utilizando diferentes estratégias de cálculo exato ou aproximado, incluindo cálculo mental -

21 acertos

01 erros

Questão 8:

EF03MA06 – Resolver e elaborar problemas de adição e subtração com os significados de juntar, acrescentar, separar, retirar, comparar e completar quantidades, utilizando diferentes estratégias de cálculo exato ou aproximado, incluindo cálculo mental -

16 acertos

06 erros

Questão 9:

EF03MA24 – Resolver e elaborar problemas que envolvam a comparação e a equivalência de valores monetários do sistema brasileiro em situações de compra, venda e troca - 12 acertos

10 erros

Questão 10:

EF03MA02 – Identificar as características do sistema de numeração decimal, utilizando a composição e a decomposição de números naturais de até quatro ordens - 18 acertos

04 erros

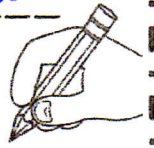
Questão 11:

EF03MA26 – Coleta, classificação, organização e representação de dados em tabelas de dupla entrada e gráficos em barras verticais e horizontais (variáveis categóricas, legenda, título, fonte de dados, elementos de uma tabela, eixos de dados) - 15 acertos



07 erros

ESCREVA SEU NOME: Modelo - Professora Ivy - 4º ano



1 DITADO: EF 04 LP 01

agradecimento

pernilongo

comprimido

chácara

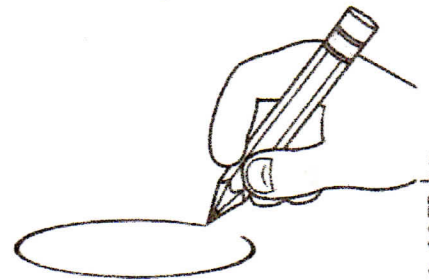
Carlos comprou uma bicicleta vermelha.

2 CIRCULE O QUADRO QUE APRESENTA A MESMA PALAVRA ESCRITA DE FORMAS DIFERENTES: EF 04 LP 01


CABELO
camelo
cabeça
Casa

CAMELO
camelo
camelo
Camelo

CABELO
camelo
camisa
Cabeça



3 ASSINALE A ESCRITA CORRETA DO NOME DAS FIGURAS: EF 04 LP 01



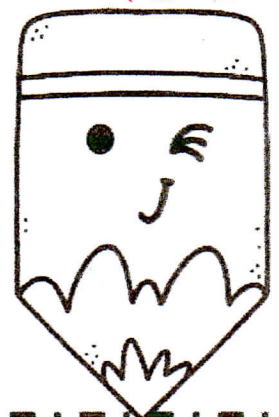
	KARO
	KAO
X	CARRO
	CARO



	PAIASO
X	PALHAÇO
	BAIAO
	PALIASO

4 ASSINALE A OPÇÃO QUE APRESENTA AS PALAVRAS EM ORDEM ALFABÉTICA: EF 04 LP 01

X	BOLA	DEDO	GATO	RATO
	GATO	RATO	BOLA	DEDO
	DEDO	GATO	RATO	BOLA
	RATO	BOLA	GATO	DEDO




5 ASSINALE A FRASE QUE REPRESENTA A IMAGEM ABAIXO: **EF04LP01**



	A MENINA BRINCA NA PISCINA.
	A MENINA JOGA BOLA.
	A MENINA ESTÁ CHORANDO.
X	A MENINA BRINCA NO ESCORREGADOR.

6 LEIA O TEXTO PARA RESPONDER AS PERGUNTAS: **EF35LP03**



ESTE TEXTO É:

VENHA COMEMORAR MEUS 7 ANOS!!!

LOCAL: RUA B. CASA 53.
DIA: 23 DE MARÇO.
HORÁRIO: 13 HORAS.

MARCELO

	UMA RECEITA
X	UM CONVITE
	UMA CARTA
	UM CONTO

O QUE SERÁ COMEMORADO?

	CASAMENTO
	VOLTA ÀS AULAS
X	ANIVERSÁRIO
	FORMATURA

EM QUE DATA?

	13 DE MARÇO
	23 DE MAIO
	13 DE JANEIRO
X	23 DE MARÇO

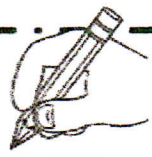
QUEM MANDOU O CONVITE?

	MARCOS
X	MARCELO
	MARIANA
	MARÇO

QUAL O LOCAL DO EVENTO?

	RUA B, CASA 35
	RUA D, CASA 53
X	RUA B, CASA 53
	RUA A, CASA 503

1) DITADO DE NUMERAIS: EF03MA01



4	27	49	60	101	213	418	629	873
---	----	----	----	-----	-----	-----	-----	-----


2) ESCREVA O ANTECESSOR E O SUCESSOR: EF03MA10

35	36	37	18	19	20	41	42	43	99	100	101
----	----	----	----	----	----	----	----	----	----	-----	-----

3) QUAL A SERPENTE QUE APRESENTA ORDEM CRESCENTE? EF03MA10

4) O NÚMERO 3: () É PAR (X) É ÍMPAR EF01MA05

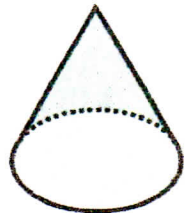
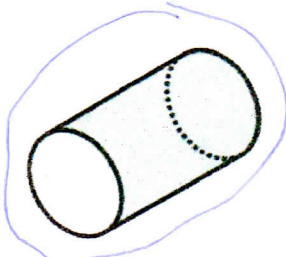
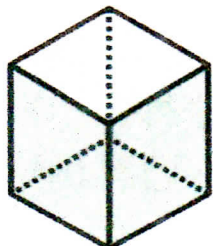

5) LUCAS TEM UMA COLEÇÃO DE BOLINHAS CONFORME A IMAGEM.



QUANTAS BOLINHAS ELE TÊM AO TODO?
LUCAS TÊM18..... BOLINHAS: EF03MA06

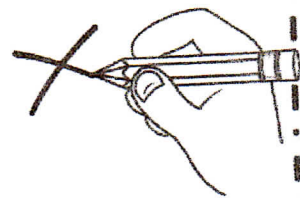
6) CIRCULE O SÓLIDO GEOMÉTRICO QUE SE ASSEMELHA AO FORMATO DA LIXEIRA.

EF02MA14



7 RESOLVA: JOÃO TINHA 18 FIGURINHAS E GANHOU MAIS 12. COM QUANTAS FIGURINHAS ELE FICOU? EF03MA06

- (A) 28 FIGURINHAS.
- (B) 12 FIGURINHAS.
- (C) 30 FIGURINHAS.
- (D) 6 FIGURINHAS.




8 MARIANA COMPROU UM QUEBRA-CABEÇAS COM 36 PEÇAS, MAS ACABOU PERDENDO 14. QUANTAS RESTARAM PARA ELA? EF03MA06

- (A) 12 PEÇAS
- (B) 27 PEÇAS
- (C) 22 PEÇAS
- (D) 50 PEÇAS


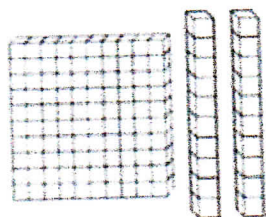
9 MINHA TIA TEM AS NOTAS ABAIXO. QUANTO ELA TEM? EF03MA

- (A) R\$ 210,00
- (B) R\$ 110,00
- (C) R\$ 200,00
- (D) R\$ 300,00

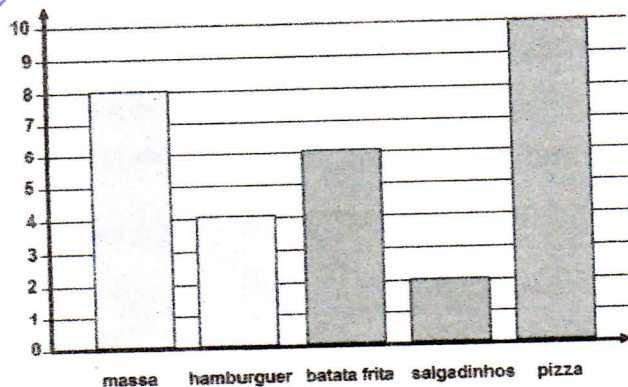


10 A FIGURA AO LADO REPRESENTA: EF03MA02

- (A) 21
- (B) 210
- (C) 120
- (D) 1200



11 OBSERVE O GRÁFICO DE LANCHES VENDIDOS E RESPONDA: EF03MA26



QUAL O LANCHE MENOS VENDIDO?

- (A) PIZZA
- (B) SALGADINHOS
- (C) HAMBURGUER
- (D) MASSA

ESCOLA MUNICIPAL PROFESSOR ARLINDO DE CASTRO

RESULTADOS DIAGNÓSTICO 5º ANO

**DIAGNÓSTICOS APLICADOS ENTRE
OS DIAS 04 E 08/03/2024**

ESCOLA MUNICIPAL PROFESSOR ARLINDO DE CASTRO
MORRETES, _____ DE MARÇO DE 2024.

ALUNO(A): _____ 5º ANO

AVALIAÇÃO DIAGNÓSTICA



- 1) Ditado de palavras: (0,5 cada = 2,0)

- 2) Ditado de frases: (0,5 cada = 1,0)

a)
b)

- 3) Leia o texto abaixo e responda às questões: (1,0 cada = 3,0)

O Corvo e a Raposa

O Senhor Corvo estava empoleirado num galho de árvore, com um pedaço de queijo no bico.

Comadre Raposa aproximou-se, atraída pelo cheiro e cumprimentou alegremente o Corvo:

- Bom dia, Mestre Corvo! Como você está bonito! Acho que nunca vi ave mais bela. Francamente, se a sua voz é tão formosa como a sua plumagem, você é o rei dos pássaros.

Ouvindo esses elogios, o Corvo quase estourou de satisfação. E, querendo mostrar que nem mesmo uma bela voz lhe faltava, abriu o bico para cantar. O queijo caiu e mais que depressa a Raposa apanhou-o. Antes de ir saborear o petisco, disse:

- Caro compadre, aprenda que todo bajulador vive à custa de quem o escuta. Acho que esta lição vale bem um pedaço de queijo.

O que a raposa queria?

A	subir na árvore.
B	o pedaço de queijo.
C	mostrar ao corvo o quanto ele era belo.
D	elogiar o corvo.

Nesse texto, a Raposa foi

A	agressiva
B	generosa
C	esperta
D	ingênua



O texto é uma fábula porque:

A	o autor descreve a história da vida de uma pessoa.
B	os personagens são animais e a história apresenta uma lição de vida.
C	dá instruções de preparo de um alimento.
D	informa fatos do cotidiano das pessoas.

4) Responda às perguntas corretamente: (1,0 cada = 4,0)

Qual a palavra que indica a escrita correta do nome da figura?

A	estela
B	etela
C	estrela
D	eztrela




Qual destas opções apresenta apenas substantivos próprios?

A	Paulo, gato e loja.
B	Pernambuco, Ana e Marabraz.
C	cidade, Luana e amor.
D	Felipe, menino e basquete.

Qual opção apresenta uma palavra no diminutivo?

A	gatinho
B	gato
C	gatão
D	gatos



Qual a palavra que indica o plural de LIMÃO?

A	limãos
B	limonada
C	limões
D	limãozinho

